

26. Большинство лайнеров национального авиаперевозчика этой страны окрашены в белый цвет с черным хвостом и изображением серебристого папоротника, который является национальным символом этого государства. Назовите эту страну.



- А) Новая Зеландия. Б) Беларусь. В) Россия. Г) Канада. Д) Китай.

27. Эта внутриконтинентальная страна граничит с двумя государствами. На юге и юго-востоке страны расположена часть крупной пустыни материка. На территории государства расположено несколько бессточных озер, наиболее крупная группа которых лежит в котловине на северо-западе страны и называется «Котловина Больших озер». Крупная река, протекающая по территории страны, имеет трансграничный характер и впадает в озеро тектонического происхождения. Столица государства официально признана самым холодным столичным городом в мире, в ней проживает свыше трети населения страны и производится более половины промышленной продукции. В стране находится самая высокая конная статуя в мире, имеющая высоту более 40 метров. Большинство верующих в стране исповедуют одну из трех крупных мировых религий, которая распространена в двух пограничных административно-территориальных единицах соседнего федерального государства. Речь идет о ...

- А) Монголии. Б) Лаосе. В) Венгрии. Г) Боливии. Д) Нигере.

28. Эта небольшая страна омывается водами двух океанов. Ее название происходит от языка народа, который когда-то создал один из главных центров цивилизации в этой части света, но сегодня находится в культурном упадке. Валюта страны носит название в честь представителя животного мира с яркой окраской, который обитает на территории всего географического региона, где находится эта страна. Основу экономики страны составляет сельское хозяйство. Государство является крупным производителем кофе и крупнейшим в мире экспортером ценной пряности, родиной которой является Южная Азия. Речь идет о ...

- А) Новой Зеландии. Б) Мексике. В) Папуа – Новой Гвинее. Г) Панаме. Д) Гватемале.

29. Нунатак – это ...

- А) окруженный льдом скалистый пик, горный гребень или холм, выступающий над поверхностью ледникового покрова или горного ледника.
 Б) переносное жилище индейцев Северной Америки.
 В) мерзлотная форма рельефа в виде куполообразного возвышения.
 Г) мужской головной убор в виде куска ткани, обмотанного вокруг головы.
 Д) сильный жаркий ветер, зарождающийся в пустынях Северной Африки и на Ближнем Востоке.

30. Рождество и Новый год на этих сравнительно небольших островах приходится на летний период, однако особой жары там никогда не бывает. У местных жителей главным праздничным блюдом является ягненок, что неудивительно – овец на островах больше, чем людей в 150 раз. В прошлом важную роль в жизни населения островов играл китобойный промысел, что отражено в праздничных традициях местных жителей – около главной церкви островов стоит особая арка из китовых костей, вблизи которой жители поют рождественские песни. Речь идет ...

- А) о Балеарских островах. Б) о Багамских островах. В) о Фолклендских островах.
 Г) об островах Фиджи. Д) об Андаманских островах.



Организатор игры-конкурса «Глобусёнок» –
 Общественное объединение «Белорусская ассоциация «Конкурс».

220045, г. Минск, ул. Яна Чечота, 16 тел. (017) 375 66 17, 375 36 23
 e-mail: info@bakonkurs.by https://www.bakonkurs.by/ https://конкурс.бел/



Конкурс по географии «ГЛОБУСЁНОК-2021»

Среда, 27 октября 2021 г.

- продолжительность работы над заданием 1 час 15 минут;
- на каждый вопрос имеется только один правильный ответ;
- на старте участник получает авансом 30 баллов;
- каждый правильный ответ оценивается тремя, четырьмя или пятью баллами; количество баллов, которые набирает участник, отвечая на вопрос правильно, определяется сложностью вопроса; сложность вопроса определяется по количеству участников, правильно ответивших на него; 10 наиболее лёгких вопросов оцениваются по 3 балла, 10 наиболее трудных вопросов – по 5 баллов, остальные 10 вопросов – по 4 балла;
- за неправильный ответ вычитается четверть баллов, предусмотренных за данный вопрос;
- за вопрос, оставшийся без ответа, баллы не прибавляются и не вычитаются;
- максимальное количество баллов, в которое оценивается задание конкурса, – 150;
- объём и содержание задания не предполагают его полного выполнения; в задании допускаются вопросы, не входящие в программу обучения;
- участнику запрещается пользоваться словарями, справочниками, учебниками, конспектами, иными письменными или печатными материалами, электронными носителями информации и устройствами связи; недопустимо обмениваться информацией с другими участниками; задавать вопросы по условию задачи; ручка, черновик, карточка – это всё, что нужно для работы участнику;
- самостоятельная и честная работа над заданием – главное требование организаторов к участникам конкурса;
- после окончания конкурса листок с заданием и черновик участник забирает с собой и хранит их до подведения окончательных итогов;
- результаты участников размещаются на сайте <http://www.bakonkurs.by/> через 1–1,5 месяца после проведения конкурса.

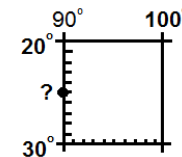
Задание для учащихся 10–11 классов

1. На территории какого из перечисленных государств расположен географический центр Азии?

- А) Турции. Б) Пакистана. В) Казахстана. Г) России. Д) Афганистана.

2. Выберите вариант ответа, в котором правильно указаны географические координаты точки, обозначенной на рисунке знаком «?».

- А) 35° Ю.Ш. и 90° З.Д. Б) 25° Ю.Ш. и 90° В.Д.
 В) 25° С.Ш. и 90° З.Д. Г) 35° Ю.Ш. и 90° В.Д.
 Д) 90° Ю.Ш. и 25° В.Д.



3. Выберите вариант ответа, в котором все полуострова расположены в пределах Европы.

- А) Балканский, Юкатан, Пиренейский. Б) Пиренейский, Лабрадор, Апеннинский.
 В) Таймыр, Ютландия, Флорида. Г) Бретань, Скандинавский, Ютландия.
 Д) Апеннинский, Калифорния, Аляска.

4. Из перечисленных выберите топоним, характеризующий занятость людей в прошлом.

- А) Бортники. Б) Загорье. В) Мосты. Г) Берестовица. Д) Бобр.

5. Разгадайте ребус и выберите вариант ответа, характеризующий особенность географического положения полуценного объекта.

- А) государство, имеющее выход к Балтийскому морю.
 Б) государство на севере Южной Америки.
 Г) река в Западной Европе.



- В) действующий вулкан в Антарктиде.
 Д) высочайшая вершина Земли.

6. Какой из этих островов расположен восточнее остальных?

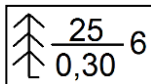
- А) Кипр. Б) Крит. В) Родос. Г) Капри. Д) Сицилия.

7. Выберите столицу государства, по территории которого проходит Гринвичский меридиан.

- А) Лиссабон. Б) Рим. В) Алжир. Г) Ниамей. Д) Рабат.

8. На топографической карте с помощью условного знака (см. рис.) можно узнать ...

- А) средний возраст деревьев.
Б) среднее число ярусов растительности.
Г) среднее расстояние между деревьями.
- В) средний диаметр кроны деревьев.
Д) дату последней санитарной вырубки.



9. Выберите государство, название которого не совпадает с названием его столицы.

- А) Панама. Б) Лихтенштейн. В) Люксембург. Г) Тунис. Д) Алжир.

10. Укажите вид продукции, производителем которой является предприятие, логотип которого изображен на рисунке.

- А) машины для дорожного строительства, торфодобычи, коммунальной отрасли, лесного и сельского хозяйства.
Б) мягкая и корпусная мебель, плиты ДСП и ДВП.
В) молочная продукция.
Г) азот жидкий, аммиак, карбамид.
Д) полшерстяные ткани костюмного и плательного назначения.



11. Назовите первое в Африке независимое государство.

- А) Замбия. Б) Сомали. В) Мадагаскар. Г) Тунис. Д) Либерия.

12. Выберите верное утверждение. В Могилевской области ...

- А) среди верующих преобладают католики.
Б) находится предприятие по производству зерноуборочных комбайнов.
В) наибольшее количество природоохранных территорий среди всех областей Беларуси.
Г) разрабатываются месторождения мела и мергеля.
Д) наименьшее количество административных районов среди областей Беларуси.

13. Выберите вариант ответа, в котором правильно указана отличительная особенность областного центра Беларуси, герб которого показан на рисунке.

- А) город, в котором производят большегрузные карьерные самосвалы.
Б) второй по численности населения город Беларуси.
В) город расположен в пределах Городокской возвышенности.
Г) город, через который протекает река Неман.
Д) город, в котором расположен один из объектов Всемирного наследия ЮНЕСКО.



14. Укажите рисунок, на котором изображена нормальная координатная сетка в конической проекции.

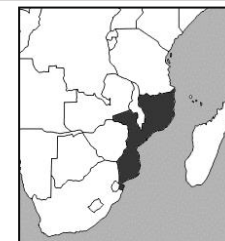
- А) Б) В) Г) Д)

15. На территории какого административного района расположен географический центр Беларуси?

- А) Щучинского. Б) Пуховичского. В) Минского. Г) Оршанского. Д) Любанского.

16. Колонией какого государства была выделенная на картосхеме страна?

- А) Испании. Б) США. В) Великобритании.
Г) Нидерландов. Д) Португалии.




17. Какую из перечисленных столиц не пересекает река Дунай?

- А) Будапешт. Б) Вена. В) Бухарест.
Г) Братислава. Д) Белград.

18. Четверо из перечисленных мореплавателей представляли одну страну. Укажите того, кто представлял другую.

- А) Якоб Роггевен. Б) Уильям Дампир. В) Виллем Баренц.
Г) Виллем Янзон. Д) Абель Тасман.



19. Формы рельефа (см. рис.), для которых характерно образование пор, пустот, воронок, пещер, называются ...

- А) лёссовые. Б) аллювиальные. В) эоловые.
Г) карстовые. Д) флювиальные.

20. В какой современной стране находится историко-географическая область Анатолия?

- А) в Испании. Б) в Италии. В) в России. Г) в Греции. Д) в Турции.

21. Какое из перечисленных государств является полноправным членом международной организации, логотип которой показан на рисунке?

- А) Беларусь. Б) Бразилия. В) Бруней.
Г) Болгария. Д) Бангладеш.



22. Какой прибор предназначен для определения географической долготы?

- А) хронометр. Б) психрометр. В) теодолит. Г) барометр. Д) анемометр.

23. Какой вулкан в Италии из-за частых извержений получил прозвище «Средиземноморский маяк»?

- А) Амиата. Б) Вулькано. В) Этна. Г) Везувий. Д) Стромболи.

24. Самый крупный по численности населения город Африки – ...

- А) Рабат. Б) Абуджа. В) Претория.
Г) Аддис-Абеба. Д) Каир.

25. Самая большая по площади и вторая по численности населения федеральная земля Германии, обозначенная на картосхеме знаком «?», называется ...

- А) Бранденбург. Б) Северный Рейн-Вестфалия.
В) Бавария. Г) Нижняя Саксония.
Д) Саар.

