

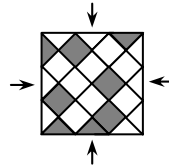


Четверг, 16 марта 2017 г.

24. Моника выбрала какие-то 5 различных чисел. Затем некоторые из них она умножила на 2, а остальные – на 3 так, чтобы получилось наименьшее количество различных результатов. Какое наименьшее количество различных результатов могло у неё получиться?

- А) 1;      Б) 2;      В) 3;      Г) 4;      Д) 5.

25. Квадратный пол на рисунке справа покрыт треугольными и квадратными плитками серого и белого цвета. Какое наименьшее число серых плиток нужно переместить, чтобы узор на полу выглядел одинаково со всех четырёх сторон?



- А) 3 треуг. и 1 квадр.;    Б) 1 треуг. и 3 квадр.;    В) 1 треуг. и 1 квадр.;  
Г) 3 треуг. и 3 квадр.;    Д) 3 треуг. и 2 квадр.

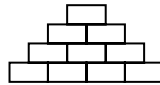
26. В коробке находятся только красные и зелёные шары. Среди любых 5 шаров есть, по крайней мере, 1 красный. А среди любых 6 шаров есть, по крайней мере, 1 зелёный. Какое наибольшее число шаров может быть в этой коробке?

- А) 11;      Б) 10;      В) 9;      Г) 4;      Д) 5.

27. В коробке находятся 8 карточек, на каждой карточке записано одно число. Алле нравятся чётные числа, Вале – числа, кратные 3, а Гале – числа, кратные 5. Названные девочки по очереди заглядывают в коробку и вытаскивают все карточки с любимыми числами. Алла вытаскила карточки с числами 32 и 52, Валя – с числами 24, 33 и 45, а Галя – с числами 20, 25 и 35. В каком порядке девочки вытаскивали карточки?

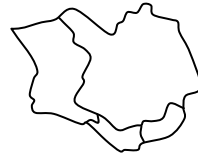
- А) Алла, Галя, Валя;      Б) Галя, Валя, Алла;      В) Валя, Алла, Галя;  
Г) Валя, Галя, Алла;      Д) Галя, Алла, Валя.

28. Женя хочет вписать по одному натуральному числу в каждую ячейку диаграммы (см. рис.) так, чтобы каждое число, расположенное выше нижнего ряда, являлось суммой двух чисел в соседних ячейках, расположенных непосредственно снизу от него. Какое наибольшее количество нечётных чисел может вписать Женя?



- А) 4;      Б) 5;      В) 6;      Г) 7;      Д) 8.

29. У Юли есть четыре различных цветных карандаша. Она хочет раскрасить карту острова, разделённого на четыре страны (см. рис.), так, чтобы страны с общей границей были окрашены в разные цвета. Сколько таких различных раскрасок существует?



- А) 12;      Б) 18;      В) 24;      Г) 36;      Д) 48.

30. На каждой клетке доски  $6 \times 6$  стоит лампа. В исходном положении некоторые лампы включены. Через каждую минуту включается всякая невключённая лампа, если не менее чем в двух соседних с ней по стороне клетках лампы включены. Какое наименьшее число ламп должно быть включено вначале, чтобы через некоторое время все лампы могли стать включёнными?

- А) 4;      Б) 5;      В) 6;      Г) 7;      Д) 8.

Конкурс организован и проводится Общественным объединением «Белорусская ассоциация «Конкурс» совместно с Академией последипломного образования при поддержке Министерства образования Республики Беларусь.


220045, г. Минск, ул. Яна Чечота, 16    тел. (017) 372 36 17, 372 36 23;  
e-mail: info@bakonkurs.by    http://www.bakonkurs.by/


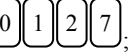

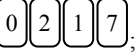
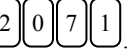
ОО «Белорусская ассоциация «Конкурс». Заказ 24. Тираж 34900 экз. г. Минск. 2017 г.

- продолжительность работы над заданием 1 час 15 минут;
- пользоваться учебниками, конспектами, калькуляторами и электронными средствами запрещается;
- за правильный ответ на задачу к баллам участника прибавляются баллы, в которые эта задача оценена;
- за неправильный ответ на задачу из баллов участника вычитается четверть баллов, в которые оценена эта задача, в то время, как не дав ответа, участник сохраняет уже набранные баллы;
- на каждый вопрос имеется только один правильный ответ;
- на старте участник получает авансом 30 баллов;
- максимальное количество баллов, которое может получить участник конкурса, – 150;
- объём и содержание задания не предполагают его полного выполнения; в задании допускаются вопросы, не входящие в программу обучения;
- самостоятельная и честная работа над заданием – главное требование организаторов к участникам конкурса; несоблюдение этого требования приводит к дисквалификации участников, т.е. их результат не засчитывается;
- после окончания конкурса листок с заданием и черновик участник забирает с собой;
- результаты участников размещаются на сайте <http://www.bakonkurs.by/> через 1–1,5 месяца после проведения конкурса.

### Задание для учащихся 5–6 классов


#### Задачи с 1 по 10 оцениваются по 3 балла

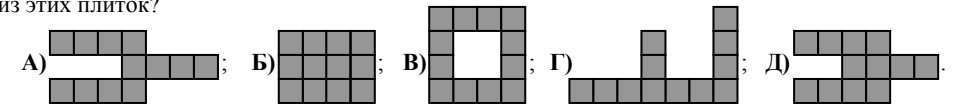
1. В ряд лежат 4 карты (см. рис. справа). Какой ряд из этих карт нельзя получить, поменяв местами только две из карт? 

- А) ;    Б) ;    В) ;    Г) ;    Д) .

2. У мухи 6 ног, а у паука 8 ног. Вместе у 3 мух и 2 пауков столько же ног, сколько ног у 9 цыплят и ...

- А) 2 котят;      Б) 3 котят;      В) 4 котят;      Г) 5 котят;      Д) 6 котят.

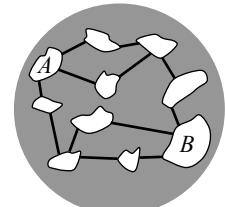
3. У Алисы есть 4 плитки вида . Какую из следующих фигур Алиса не сможет сложить из этих плиток?



4. Коля знает, что  $1111 \times 1111 = 1234321$ . Чему равно произведение  $1111 \times 2222$  ?

- А) 3456543;    Б) 2345432;    В) 2234322;    Г) 2468642;    Д) 4321234.

5. На некоторой планете 10 островов соединены 12 мостами так, как показано на рисунке. Какое наименьшее число мостов нужно закрыть, чтобы нельзя было добраться по мостам от острова А до острова В?



- А) 1;      Б) 2;      В) 3;      Г) 4;      Д) 5.

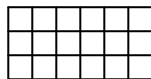
6. Носороги Джейн, Кейт и Линн вышли на прогулку. Джейн идёт впереди, а Линн – позади. Джейн весит на 500 кг больше, чем Кейт. Кейт весит на 1000 кг меньше, чем Линн. На каком из следующих рисунков показано правильное расположение носорогов на прогулке?

- А) ;    Б) ;    В) ;    Г) ;    Д) .

7. На каждой грани специального кубика записано некоторое число. Суммы чисел у пар противоположных граней равны. На пяти из граней записаны числа 5, 6, 9, 11 и 14. Какое число записано на шестой грани?

- А) 4;    Б) 7;    В) 8;    Г) 13;    Д) 15.

8. Мартин хочет окрасить клетки таблицы на рисунке так, чтобы треть клеток были синими, половина – жёлтыми, а остальные красными. Сколько клеток должны быть красными?

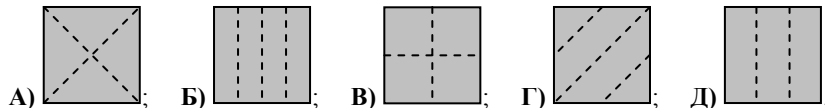
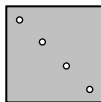


- А) 1;    Б) 2;    В) 3;    Г) 4;    Д) 5.

9. Пока Петя решает 2 задачи на конкурсе «Кенгуру», Вася успевает решить 3 задачи. Всего вдвоём они решили 30 задач. На сколько задач Вася решил больше, чем Петя?

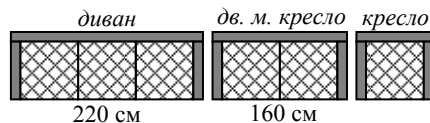
- А) 5;    Б) 6;    В) 7;    Г) 8;    Д) 9.

10. Боря сложил лист бумаги и проколол его ровно один раз. Когда он развернул лист, то увидел 4 дырки (см. рис. справа). На каком из следующих рисунков показано, как Боря складывал лист?




**Задачи с 11 по 20 оцениваются по 4 балла**

11. В мебельном магазине продаются диваны, двухместные кресла и обычные кресла. Все они изготовлены из одинаковых модульных частей, как показано на рисунке. Ширина дивана (включая подлокотники) равна 220 см, а двухместного кресла – 160 см. Чему равна ширина кресла?



- А) 60 см;    Б) 80 см;    В) 90 см;    Г) 100 см;    Д) 120 см.

12. 5 ключей на рисунке подходят к 5 замкам. Буквами на замках зашифрованы цифры на ключах (одинаковые цифры – одинаковыми буквами, а разные – разными). Что должно быть написано на последнем ключе?

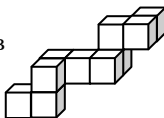


- А) 382;    Б) 282;    В) 284;    Г) 823;    Д) 824.

13. Толя записал 31-значное число 1234567891011121314151617181920. Какое наибольшее число он может получить, если сотрёт какие-то 24 из цифр данного числа?

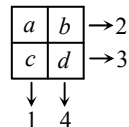
- А) 9671819;    Б) 9567892;    В) 9781920;    Г) 9912345;    Д) 9818192.

14. Миша хочет поместить конструкцию, изображённую на рисунке справа, в обычную коробку. Какие наименьшие размеры могут быть у такой коробки?



- А)  $3 \times 3 \times 4$ ;    Б)  $3 \times 5 \times 5$ ;    В)  $3 \times 4 \times 5$ ;    Г)  $4 \times 4 \times 4$ ;    Д)  $4 \times 4 \times 5$ .

15. Если сложить числа в строчках и столбцах таблицы  $2 \times 2$ , то получатся результаты, показанные на рисунке. Какое из следующих утверждений верно?

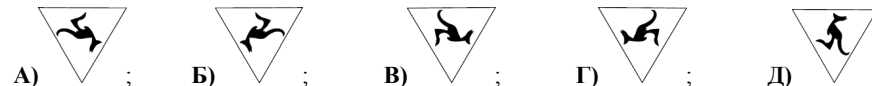
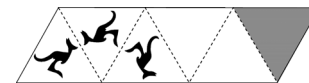


- А) a равно d;    Б) d равно c;    В) a больше, чем d;    Г) a меньше, чем d;    Д) c больше, чем b.

16. Петя путешествовал пешком в горах в течение 5 дней: с понедельника по пятницу. Каждый день он проходил на 2 км больше, чем в предыдущий день. Всего за 5 дней Петя прошёл расстояние, равное 70 км. Сколько километров он прошёл в четверг?

- А) 12;    Б) 13;    В) 14;    Г) 15;    Д) 16.

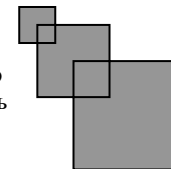
17. В трёх треугольниках на рисунке изображены кенгуру. Штриховые линии отражают рисунки, как зеркала. Как будет расположен рисунок кенгуру в последнем (сером) треугольнике?



18. У Бори есть некоторая сумма денег и три волшебные палочки, каждой из которых он обязан воспользоваться ровно один раз. Первая палочка увеличивает сумму денег на 2 рубля, вторая уменьшает на 2 рубля, а третья увеличивает в 2 раза. В каком порядке Боря должен использовать эти палочки, чтобы получить наибольшую возможную сумму денег?

- А) « $\times 2$ », «+ 2», «- 2»;    Б) «+ 2», «- 2», « $\times 2$ »;    В) « $\times 2$ », «- 2», «+ 2»;  
Г) «+ 2», « $\times 2$ », «- 2»;    Д) «- 2», «+ 2», « $\times 2$ ».

19. Рома нарисовал 3 квадрата со сторонами 2 см, 4 см и 6 см. Вершина второго квадрата находится в центре первого квадрата, а вершина третьего квадрата – в центре второго, как показано на рисунке. Чему равна площадь полученной фигуры?



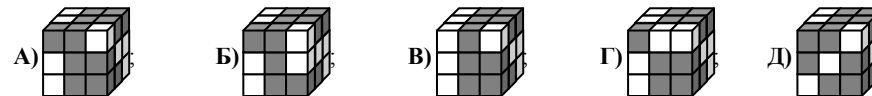
- А)  $56 \text{ см}^2$ ;    Б)  $51 \text{ см}^2$ ;    В)  $52 \text{ см}^2$ ;    Г)  $48 \text{ см}^2$ ;    Д)  $36 \text{ см}^2$ .

20. Четыре гандболиста забили в матче разные количества голов. Из них Майк забил наименьшее число голов, а остальные трое гандболистов забили вместе 20 голов. Какое наибольшее число голов мог забить Майк?

- А) 2;    Б) 3;    В) 4;    Г) 5;    Д) 6.

**Задачи с 21 по 30 оцениваются по 5 баллов**

21. Брусok склеен из двух серых и одного белого кубиков. Какой из следующих кубов можно построить из 9 таких брусков?



22. Числа 1, 2, 3, 4, и 5 нужно вписать в клетки фигуры на рисунке справа так, чтобы выполнялись условия: 1) если одно число ниже другого, то оно больше, 2) если одно число правее другого, то оно тоже больше. Сколько существует различных способов так вписать данные числа?



- А) 3;    Б) 4;    В) 5;    Г) 6;    Д) 8.

23. 8 кенгуру стоят в ряд так, как показано на рисунке. В какой-то момент два соседних кенгуру, которые смотрят друг на друга, перепрыгивают друг через друга. Затем снова два соседних кенгуру, которые смотрят друг на друга, перепрыгивают друг через друга и т. д. Какое число таких перепрыгиваний может быть сделано до того, как они станут невозможны?



- А) 2;    Б) 10;    В) 12;    Г) 13;    Д) 16.